



Prefeitura Municipal da
Est. Religiosa de Aparecida

Nome do Candidato

Inscrição

Caderno de Prova



28 de agosto de 2016



Das 09h às 12h



3h de duração






40 questões

Cargo: BOMBEIRO MUNICIPAL

INSTRUÇÕES

- Só abra este caderno quando o fiscal autorizar.
- Verifique se este caderno contém 40 questões, numeradas de 1 a 40.
- Caso contrário, solicite ao fiscal da sala outro caderno.
- Para cada questão existe apenas UMA resposta certa.
- Transcreva, **com tinta azul ou preta**, as alternativas escolhidas para o GABARITO OFICIAL, sem cometer rasuras. Não deixe nenhuma em branco.
- Não será possível a substituição do Gabarito Oficial.
- Não será permitida qualquer espécie de consulta.
- Não haverá tempo adicional para transcrição de respostas ao gabarito oficial.
- Terminada a prova entregue o gabarito oficial, a folha da prova dissertativa e o caderno de questões ao fiscal. Poderá ser levado **somente** o gabarito provisório de respostas.

  
Certo Errado Errado

Gabarito provisório

1.	6.	11.	16.	21.	26.	31.	36.
2.	7.	12.	17.	22.	27.	32.	37.
3.	8.	13.	18.	23.	28.	33.	38.
4.	9.	14.	19.	24.	29.	34.	39.
5.	10.	15.	20.	25.	30.	35.	40.



AGIRH – Assessoria e Gestão Integrada
em Recursos Humanos S/C Ltda
Email: contato@agirh.org
<http://www.agirh.org>

Língua Portuguesa

Leia atentamente a canção a seguir, de Chico Buarque, músico e compositor brasileiro, para responder às questões de 1 a 3.

Deixe a menina

Não é por estar na sua presença
Meu prezado rapaz
Mas você vai mal
Mas vai mal demais
⁵ São dez horas, o samba tá quente
Deixe a morena contente
Deixe a menina sambar em paz

Eu não queria jogar confete
Mas tenho que dizer
¹⁰ Cê tá de lascar
Cê tá de doer
E se vai continuar enrustido
Com essa cara de marido
A moça é capaz de se aborrecer

¹⁵ Por trás de um homem triste
Há sempre uma mulher feliz
E atrás dessa mulher
Mil homens, sempre tão gentis
Por isso, para o seu bem
²⁰ Ou tire ela da cabeça
Ou mereça a moça que você tem

Não sei se é pra ficar exultante
Meu querido rapaz
Mas aqui ninguém
²⁵ O aguenta mais
São três horas, o samba tá quente
Deixe a morena contente
Deixe a menina sambar em paz

Não é por estar na sua presença
³⁰ Meu prezado rapaz
Mas você vai mal
Mas vai mal demais
São seis horas, o samba tá quente
Deixe a morena com a gente
⁴⁰ Deixe a menina sambar em paz

01. Leia atentamente as afirmações a seguir:

I – Na canção, o eu-lírico aconselha um amigo a ser menos ciumento.

II – Durante a canção, o eu-lírico refere-se a uma mulher específica, por isso o emprego de artigo definido, como no verso 6 – “Deixe a morena contente”.

III – O tom da canção é coloquial.

É (São) correta(s) a(s) afirmativa(s):

a. Apenas III.

b. I e II.

c. Todas.

d. I e III.

02. Nos versos 15 e 16 – “Por trás de um homem triste/ Há sempre uma mulher feliz”, há uma figura de linguagem. Qual seria ela?

a. Antítese.

b. Hipérbole.

c. Comparação.

d. Eufemismo.

03. Leia atentamente as afirmações a seguir:

I – É possível afirmar que, no decorrer da música, as horas em que o eu-lírico e o amigo passam no samba vão avançando.

II – Pelo tom da canção, é possível afirmar que o eu-lírico é apaixonado pela mulher do amigo.

III – No verso 18, o verbo “haver” está omitido. Se indicado no verso, o correto, segundo a norma culta, seria: “E atrás dessa mulher / Hão mil homens, sempre tão gentis”.

É (São) correta(s) a(s) afirmativa(s):

a. I e III.

b. Todas.

c. Apenas I.

d. I e II.

Leia atentamente a tirinha da garotinha Mafalda a seguir para responder às questões 4 e 5:



04. Leia as afirmações a seguir:

I – A tirinha é marcada por humor, devido à argumentação absurda apresentada por Manolito, amigo de Mafalda, no último quadrinho.

II – Manolito concorda com o julgamento da professora.

III – Há emprego de linguagem coloquial.

É (São) correta(s) a(s) afirmativa(s):

a. Apenas I.

b. I e III.

c. I, II e III.

d. Apenas II.

05. Acerca da sentença “É pra isso que a gente vai todo dia à escola?”, presente no segundo quadrinho, é possível afirmar que:

a. Se trocarmos “escola” por trabalho, a sentença ficaria: “É pra isso que a gente vai todo dia à trabalho?”.

b. A sentença está no pretérito.

c. A sentença é formada por um período simples.

d. A sentença possui dois verbos.

06. Assinale a alternativa em que a oração coordenada é de mesma classificação que existe em “Não compraremos a casa, nem compraremos o carro.”:

a. Não brinque com fogo, pois você pode se queimar.

b. Realize o trabalho a tempo ou será afastado.

c. Você é o único capaz de costurar; é, pois, você quem fará o vestido.

d. Não só venceu a competição como também bateu o recorde.

07. Assinale a alternativa que completa adequadamente, segundo a norma culta, as sentenças a seguir.

I – Se eu _____ quieta, teria mais benefícios.

II – Quando José _____ na loteria poderá pedir as contas.

III – Quando você _____ Diego, diga que quero falar com ele.

IV – Se Maria _____ seu voto, Antônio seria eleito.

a. ficasse, ganhar, vir, mantivesse.

b. ficar, ganhou, ver, manter.

c. ficar, ganhou, vir, mantivesse.

d. ficasse, ganhar, ver, manter.

08. Quanto à regência verbal, todas as frases estão corretas, segundo a norma culta da língua, exceto:

a. Faz tempo que Marcelo namora Joana?

b. O uso descontrolado de cartões de crédito acarreta em dívidas.

c. Pedro quer bem ao filho.

d. Ela foi ao Rio de Janeiro mês passado.

09. Quanto à colocação pronominal, assinale a alternativa correta, segundo o padrão de norma culta de língua:

a. Me conte uma novidade!

b. Há pessoas que tratam-nos com desdém.

c. Te desejo muitas felicidades!

d. Foi aquele homem quem me indicou o curso.

10. Indique a alternativa cuja partícula “se” exerce a mesma função que a partícula presente na frase: “Fiscalizaram-se várias provas.”:

a. O menino machucou-se com o brinquedo.

b. Trata-se de uma medida paliativa.

c. Não se pouparam esforços para conquistar o título.

d. Arrependeu-se pelos pecados cometidos.

Matemática

11. O número formado por três unidades de milhão, mais quatro centenas de milhar, mais uma dezena de milhar, mais cinco centenas, mais nove unidades, é:

- a. 3 400 100 509.
 - b. 3 400 501 009.
 - c. 3 401 509.
 - d. 3 410 509.
-

12. João Gabriel tinha no total 20 centenas de figurinhas, 5 centenas e mais 2 unidades eram repetidas e foram trocadas por 8 dezenas e 5 unidades de figurinhas novas. No sistema de numeração romano esse número total de figurinhas depois da troca é representado por:

- a. MDLXXXIII.
 - b. MDXXXIV.
 - c. DXXXVV.
 - d. MMDLXXXV.
-

13. Se Antônio gastar dois terços do que tem, ele poderá comprar 4 dezenas de bolinhas de gude de 50 centavos cada par. A quantia que Antônio tem:

- a. 5 reais.
 - b. 10 reais.
 - c. 15 reais.
 - d. 20 reais.
-

14. A soma do triplo de um número natural com o dobro do seu sucessor dá 22. Esse número é:

- a. 1.
 - b. 2.
 - c. 3.
 - d. 4.
-

15. Dona Augusta comprou uma TV por R\$ 900,00 e pagou 25% de entrada e o restante em 10 prestações iguais sem juros. O valor de cada parcela foi de:

- a. R\$ 22,50.
- b. R\$ 45,00.
- c. R\$ 67,50.
- d. R\$ 90,00.

16. Somando 40 kg ao triplo do peso de Leonardo obtemos 160 kg, quanto Leonardo pesa?

- a. 120kg.
 - b. 100kg.
 - c. 80kg.
 - d. 40kg.
-

17. Uma casa é feita em 240 dias por 8 trabalhadores. Se o número de trabalhadores for elevado para 20, o número de dias necessários para a construção da mesma casa será:

- a. 90 dias.
 - b. 94 dias.
 - c. 96 dias.
 - d. 100 dias.
-

18. Em um shopping, a razão entre o número de mulheres e de homens é de 2 para 3. Se nesse shopping há 609 homens, então o número de total de pessoas é:

- a. 406.
 - b. 1015.
 - c. 1827.
 - d. 3195.
-

19. Pedro tem uma caixa com 36 lápis de cores diferentes e vai usar 2 deles em um desenho. Quantas possibilidades de escolha ele tem?

- a. 36.
 - b. 72.
 - c. 1260.
 - d. 1296.
-

20. A mãe de Samuel pesou o filho no mês anterior 20,5 kg, o garoto engordou 20% em relação ao peso anterior. O peso atual de Samuel é de:

- a. 24,6kg.
- b. 25,6kg.
- c. 25,625kg.
- d. 26kg.

Conhecimentos Gerais

21. Os Jogos Olímpicos de 2016 têm como sede o Rio de Janeiro. Os Jogos Olímpicos de 2020 terão como sede:

- a. Moscou.
- b. Toronto.
- c. Tóquio.
- d. Sydney.

22. Recentemente, houve a decisão do Reino Unido de sair da União Europeia. A esse processo foi dado o nome de:

- a. Grexit.
- b. Exit.
- c. Rexit.
- d. Brexit.

23. Este ano há uma mulher concorrendo às eleições dos Estados Unidos da América. O nome dela é:

- a. Michele Obama.
- b. Melania Trump.
- c. Hilary Clinton.
- d. Laura Bush.

24. Durante o ano de 2015 o Estado de São Paulo passou por uma crise de escassez de água. Qual das alternativas aponta uma atitude que a Arsesp (Agência de Água e Energia de São Paulo) tomou frente a esta crise?

- a. Iniciou o processo de transposição do Rio da Prata.
- b. Orçou importação de água do Paraguai.
- c. Autorizou a cobrança de sobretaxa para aqueles consumidores que gastarem mais água após a crise em relação ao ano anterior.
- d. Iniciou perfuração de poços no Aquífero do Guarani.

25. Sobre o processo de impeachment da presidente Dilma Rousseff, é incorreta afirmar:

- a. O Supremo Tribunal Federal é encarregado do julgamento deste processo.
- b. O pedido da abertura do processo foi aprovado pela Câmara dos Deputados.
- c. Dilma Rousseff está sendo acusada de cometer crime de responsabilidade.
- d. Se condenada, a presidente será destituída imediatamente, mesmo antes da publicação da decisão no Diário Oficial.

26. No ano de 2015 ocorreu o rompimento de uma barragem localizada na cidade de Mariana, em Minas Gerais. Tal rompimento ocasionou um desastre ambiental, além de deixar muitas pessoas desabrigadas. Sobre esse acidente, é correto afirmar:

- a. O rio da Prata foi grandemente atingido.
- b. A barragem rompida é controlada pela Mineradora Samarco Mineração S.A.
- c. A lama que atingiu o rio não continha metais pesados.
- d. Foram criadas cinco Comissões Especiais para acompanhar o caso.

27. Recentemente, nos Estados Unidos, apareceram alguns casos de Zika de transmissão local, ou seja, a doença foi contraída dentro dos EUA. O estado americano em que ocorreram esses casos é:

- a. Texas.
- b. Flórida.
- c. Carolina do Norte.
- d. Carolina do Sul.

28. O Mercosul vem enfrentando um período de crise por conta da passagem da presidência rotativa do bloco. Para qual país deveria ser transmitida a presidência?

- a. Venezuela.
- b. Colômbia.
- c. Paraguai.
- d. Brasil.

29. De acordo com o artigo 117 da Lei Orgânica do Município de Aparecida, a concessão de vantagem ou aumento de remuneração, a criação de cargos ou alteração de estrutura de carreira, bem como a admissão de pessoal, a qualquer título, pelos órgãos e entidades da administração pública direta ou indireta e fundacional municipal, só poderão ser feitas:

- I. se houver prévia dotação orçamentária suficiente para atender as projeções de despesa de pessoal ou os acréscimos dela decorrentes.
- II. se houver autorização específica na Lei de Diretrizes Orçamentárias.
- III. se houver ampla discussão com representantes de servidores municipais.

São corretas:

- a) I e II
- b) I e III
- c) II e III
- d) I, II e III

30. O Estado do Rio Grande do Norte sofreu uma série de ataques, que envolveram queima de ônibus, atentados contra postos da Polícia Militar, entre outros. Segundo o governo do Estado do Rio Grande do Norte, a motivação para essa série de ataques foi:

- a. Insatisfação contra os baixos salários pagos aos taxistas daquele estado.
- b. Retaliação às ações de disciplina dentro de unidades prisionais.
- c. Manifestação contra as Olimpíadas no Brasil.
- d. Ataques terroristas de grupos ligados ao Estado Islâmico.

Conhecimentos Específicos

31. Todas as vítimas de acidentes rodoviários devem na avaliação inicial serem consideradas como portadores de traumatismos na coluna vertebral, até que se prove o contrário. São sinais de suspeita de traumatismo na coluna vertebral:

- I. Dor regional.
- II. Incapacidade de movimentar-se.
- III. Sensação de formigamento dos membros.
- IV. Perda de sensibilidade tátil nos braços e nas pernas.

São corretas:

- a) apenas uma afirmativa está correta.
- b) duas afirmativas estão corretas.
- c) três afirmativas estão corretas.
- d) todas afirmativas estão corretas.

32. Qual o posicionamento correto para transporte de um paciente não traumático inconsciente?

- a) decúbito lateral esquerdo.
- b) decúbito lateral direito.
- c) decúbito ventral.
- d) decúbito dorsal.

33. São crimes de trânsito:

- a) Praticar lesões corporais.
- b) Deixar o condutor do veículo, na ocasião do acidente, de prestar imediato socorro à vítima, ou, não podendo fazê-lo diretamente, por justa causa, deixar de solicitar auxílio da autoridade pública.
- c) Participar de rachas ou competições não autorizadas.
- d) Todas as alternativas anteriores estão corretas.

34. De acordo com o Código de Trânsito Brasileiro, referente aos veículos destinados a socorro de incêndio e salvamento, os de polícia, os de fiscalização e operação de trânsito e as ambulâncias:

- I. Eles possuem prioridade de trânsito.
- II. Gozam de livre circulação, estacionamento e parada em quaisquer situações.
- III. Quando os dispositivos estiverem acionados, indicando a proximidade dos veículos, todos os condutores deverão deixar livre a passagem pela faixa da esquerda, indo para a direita da via e parando, se necessário.
- IV- os pedestres, ao ouvir o alarme sonoro, deverão aguardar no passeio, só atravessando a via quando o veículo já tiver passado pelo local.

Assinale a alternativa incorreta:

- a) I.
 - b) II.
 - c) I e IV.
 - d) III e IV.
-

35. É importante verificar os sinais vitais de alguém que está sendo socorrido. São considerados sinais vitais:

- a) fala, temperatura e pressão arterial.
 - b) respiração, temperatura e fala.
 - c) força muscular, pressão arterial e pulso.
 - d) temperatura, pulso, respiração e pressão arterial.
-

36. Dispositivo usado comumente ao combate a incêndio, constituído por um bulbo de vidro contendo um líquido que se dilata com o calor, que, ao se romper, libera, sob a forma de ducha, a água do encanamento ao qual está fixado. Esse equipamento é o?

- a) esguicho.
 - b) sprinkler.
 - c) detector de chama.
 - d) detector de fumaça.
-

37. Classe de Incêndio em que os elementos pirofóricos são enquadrados:

- a) Classe A.
 - b) Classe B.
 - c) Classe C.
 - d) Classe D.
-

38. A água nunca será empregada:

- a) nos fogos de Classe B, salvo quando pulverizada sob a forma de neblina.
 - b) nos fogos de Classe C, salvo quando se tratar de água pulverizada.
 - c) nos fogos de Classe D.
 - d) todas as alternativas estão corretas.
-

39. Um incêndio é caracterizado como sendo da classe C, quando há queima que tipos de materiais?

- a) Combustíveis líquidos e gases inflamáveis.
 - b) Equipamentos energizados, geralmente equipamentos elétricos.
 - c) Materiais sólidos.
 - d) Metais pirofóricos, alumínio, antimônio, magnésio.
-

40. Segundo a NR 23 Os locais de trabalho deverão dispor de saídas, em número suficiente e dispostas de modo que aqueles que se encontrem nesses locais possam abandoná-los com rapidez e segurança, em caso de emergência, A largura mínima das aberturas de saída deverá ser de:

- a) 1,20m (um metro e vinte centímetros).
 - b) 1,50m (um metro e cinquenta centímetros).
 - c) 2.00m (dois metros).
 - d) 1,80m (um metro e oitenta centímetros).
-