



Nome do Candidato _____

Inscrição _____

Prefeitura Municipal
de Lavrinhas

Caderno de Prova



06/05/2018






1h 30m de duração



20 questões

Cargo: Professor PEB II - História (Jornada Básica)

INSTRUÇÕES

- Só abra este caderno quando o fiscal autorizar.
- Verifique se este caderno contém 20 questões, numeradas de 1 a 20.
Caso contrário, solicite ao fiscal da sala um outro caderno.
- Para cada questão existe apenas UMA resposta certa.
- Transcreva, **com tinta preta**, as alternativas escolhidas para a GABARITO OFICIAL, sem cometer rasuras. Não deixe nenhuma em branco.   
Certo Errado Errado
- Não será possível a substituição do Gabarito Oficial.
- Não será permitida qualquer espécie de consulta.
- Não haverá tempo adicional para transcrição de respostas ao gabarito oficial.
- Terminada a prova entregue o gabarito oficial, a folha da prova dissertativa e o caderno de questões ao fiscal. Poderá ser levado **somente** o gabarito provisório de respostas.

Gabarito provisório

| | | | | | | | |
|----|-----|-----|-----|--|--|--|--|
| 1. | 6. | 11. | 16. | | | | |
| 2. | 7. | 12. | 17. | | | | |
| 3. | 8. | 13. | 18. | | | | |
| 4. | 9. | 14. | 19. | | | | |
| 5. | 10. | 15. | 20. | | | | |

AGIRH – Assessoria e Gestão Integrada
em Recursos Humanos S/C Ltda
Email: contato@agirh.org
http://www.agirh.org

PROFESSOR DE HISTORIA- Jornada
Básica

Português

Leia atentamente o poema *Poemas aos homens do nosso tempo - XVI*, de Hilda Hilst, escritora brasileira, para responder às questões de **1 a 5**.

Poemas aos homens de nosso tempo - XVI

Enquanto faço o verso, tu decerto vives.
Trabalhas tua riqueza, e eu trabalho o sangue.
Dirás que sangue é o não teres teu ouro
E o poeta te diz: compra o teu tempo

Contempla o teu viver que corre, escuta
O teu ouro de dentro. É outro o amarelo
que te falo.
Enquanto faço o verso, tu que não me lês
Sorris, se do meu verso ardente alguém
te fala.

O ser poeta te sabe a ornamento,
desconversas:
“Meu precioso tempo não pode ser
perdido com os poetas”. Irmão do
meu momento: quando eu morrer
Uma coisa infinita também morre. É difícil
dizê-lo:

MORRE O AMOR DE UM POETA.
E isso é tanto, que o teu ouro não
compra,
E tão raro, que o mínimo pedaço, de tão
vasto

Não cabe no meu canto.

01. Este excerto tem como tema central:

a) A crítica ao materialismo exacerbado, que não permite que os indivíduos percebam a riqueza que existe na arte, nos sentimentos, na poesia.

b) O apoio à busca do ouro, metal precioso muito importante para o desenvolvimento da humanidade.

c) O amor não correspondido de um homem que deseja cobrir de joias a sua amada.

d) A crítica ao sentimentalismo exagerado, que tenta se sobrepor às necessidades materiais, que são muito mais importantes.

02. Nos versos: “Trabalhas tua riqueza, e eu trabalho o sangue. / Dirás que sangue é o não teres teu ouro”, a palavra “sangue” é utilizada para expressar a ideia de:

- a) Perdão.
- b) Sacrifício.
- c) Troca.
- d) Riqueza.

03. O poema inteiro trata do eu lírico em primeira pessoa, exceto no verso: “E o poeta te diz: compra o teu tempo”. A autora utilizou-se desse artifício para:

- a) Distanciar-se do conflito.
- b) Deixar clara que a contraposição existe entre o indivíduo materialista e o poeta, enquanto categoria, e não entre o materialista e o eu lírico, simplesmente.

c) Eximir-se da culpa de não sensibilizar as pessoas materialistas.

d) Inserir-se no grupo dos indivíduos materialistas.

04. No verso: “E isso é tanto, que o teu ouro não compra”, “isso” refere-se a:

- a) O ouro.
- b) A poesia.

- c) O amor de um poeta.
- d) O poeta.

05. Observe o verso: "Contempla o teu viver que corre, escuta". Se trocarmos os verbos "contemplar" e "escutar" por "ver" e "ouvir", temos:

- a) Veja o teu viver que corre, ouça.
- b) Veja o teu viver que corre, ouve.
- c) Vê o teu viver que corre, ouça.
- d) Vê o teu viver que corre, ouve.

CONHECIMENTOS GERAIS

06. O presidente e fundador do Facebook classificou a incapacidade da empresa de prevenir episódios como a atuação da empresa Cambridge Analytica e a interferência russa nas eleições dos EUA de 2016 como "um grande erro" e pediu desculpas. O nome do presidente é: a) John Tune.

- b) Mark Zuckerberg.
- c) Bill Gates.
- d) Steve Jobs.

07. Até agora exercia o cargo de primeiro vice-presidente do governo de Cuba, quando foi eleito quinta-feira, 19/04/2018, como presidente do país pela Assembleia Nacional em substituição do general Raúl Castro, que se retira do poder após 12 anos. Trata-se de:

- a) Miguel Díaz-Canel.
- b) Salvador Valdés Mesa.
- c) Gladys Bejerano.
- d) Homero Acosta.

08. "A partir do pôr do sol do dia 18/04/2018, os judeus dão início às comemorações dos 70 anos _____. Apesar de a data histórica ter sido em 14 de maio, os judeus comemoram neste dia pois seguem o calendário judaico, que é diferente do calendário gregoriano e baseado nos ciclos da Lua." Completa corretamente a lacuna:

- a) Da criação da Organização das Nações Unidas (ONU).
- b) Da queda do nazismo.
- c) Da criação do Estado de Israel.
- d) Do fim do Holocausto.

09. Moon Jae-In, disse dia 19/04/2018 que a Coreia do Norte expressou compromisso com a "desnuclearização completa". Ele acrescentou que Pyongyang não está impondo condições para que este processo seja iniciado. As declarações foram dadas depois de o presidente Donald Trump ter dito que o encontro entre Estados Unidos (EUA) e Coreia do Norte só acontecerá "se for frutífero". Moon Jae-In é presidente da: a) Coreia do Norte.

- b) Coreia do Sul.
- c) China.
- d) Japão.

10. A Lei Orgânica Municipal de Lavrinha poderá ser emendada mediante proposta: I - de um terço, no mínimo, dos membros da Câmara Municipal.

II - do Prefeito Municipal.

III - de iniciativa popular.

Assinale a alternativa correta:

- a) Apenas I
- b) Apenas II
- c) Apenas III
- d) I, II e III

(O Globo. **Cientistas usam imagens de satélite para combater trabalho escravo.** Publicada em 19 de março de 2018.)

PROFESSOR DE HISTORIA_

Jornada Básica

CONHECIMENTOS ESPECIFICOS

11..Leia os trechos abaixo retirados de uma reportagem do jornal O Globo para responder às questões:

“O combate à escravidão moderna ganhou um aliado dos céus: imagens de satélite estão ajudando pesquisadores e ativistas a identificarem locais suspeitos de exploração do trabalho escravo. Com um sistema de inteligência artificial, eles mapearam 55.387 fornos para a produção de tijolos no Paquistão, Índia, Nepal e Bangladesh, indústria conhecida pelo emprego mão de obra forçada e infantil. O próximo passo é localizar outras estruturas relacionadas com o trabalho escravo, incluindo os campos de carvão no Brasil.”

“Os primeiros resultados foram publicados no início do mês no periódico “Photogrammetry and Remote Sensing”. De acordo com o Índice Global da Escravidão, elaborado pela Walk Free Foundation, estima que existam no mundo 40,3 milhões de vítimas da escravidão moderna, sendo 24,9 milhões em trabalhos forçados e 15,4 milhões em casamentos forçados. No Brasil, a estimativa é de 161.100 pessoas vivendo em regime de escravidão.”

12.Considerando o texto acima, são características do trabalho escravo contemporâneo, exceto:

- a) Servidão por dívida, péssimas condições de higiene e falta de assistência médica.
- b) Ausência de equipamentos de proteção coletiva e individual de trabalho, alojamentos em condições subumanas e falta de água potável.
- c) Desprezo aos direitos sociais, ausência de anotação em CTPS e jornada de sol a sol ou exaustiva.
- d) Jornadas de trabalho de 40 horas semanais, terceiro turno e a periculosidade.

13. De acordo com os trechos acima do jornal O Globo, não podemos afirmar que:

- a) A estimativa é que mais de 161 mil pessoas vivam sobre regime de escravidão no Brasil.
- b) Estima-se que existam no mundo 40,3 milhões de vítimas da escravidão moderna.
- c) Imagens de satélite são usadas para prevenir a escravidão moderna e já erradicaram o regime de escravidão no Brasil.
- d) Imagens de satélite estão ajudando pesquisadores e ativistas a identificarem locais suspeitos de exploração do trabalho escravo.

- d) Conflito Árabe-Israelense, Guerra de Suez e Guerra dos Seis Dias.

14. Qual das alternativas abaixo não indica um país membro da União Europeia?

- a) Malta
- b) Croácia
- c) Luxemburgo
- d) Noruega

15. Acerca dos conflitos históricos no Oriente Médio assinale a alternativa incorreta:

A _____ foi um conflito nacionalista contra a colonização inglesa. Marcada por duas fases, a revolta começou com greves e protestos e, posteriormente, se tornou um violento movimento de resistência.

O _____ iniciou após a independência de Israel.

A _____ foi resultado do aumento da tensão no Oriente Médio. O conflito começou após um ataque de Israel que destruiu boa parte do arsenal bélico do Egito, Jordânia, Iraque e Síria.

- a) Grande Revolta Árabe, conflito Árabe-Israelense e Guerra de Suez.
- b) Grande Revolta Árabe, conflito Árabe-Israelense e Guerra dos Seis Dias.
- c) Guerra dos Seis Dias, Guerra dos Seis dias e Grande Revolta Árabe.

16. Leia o trecho a seguir:

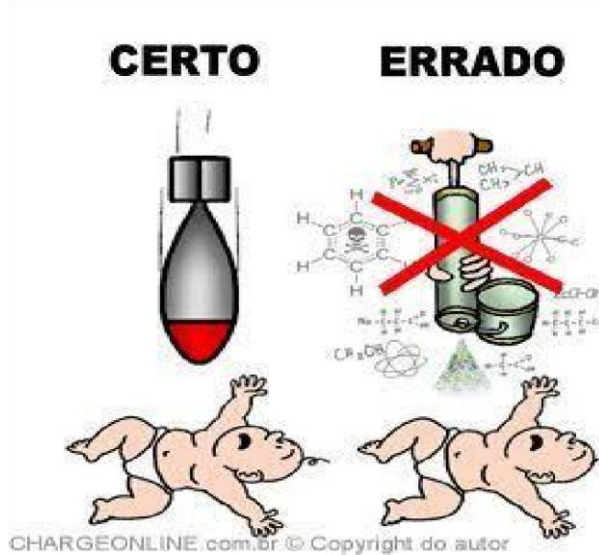
“O Estado no Brasil resultou de uma enorme operação de conquista e ocupação de parte do Novo Mundo, empreendimento no qual se associaram a Coroa portuguesa, através dos seus agentes, e a Igreja Católica, representada primeiramente pelos jesuítas. Política e ideologicamente foi uma aliança entre o Absolutismo ibérico e a ContraReforma religiosa, preocupada com a posse do território recém descoberto e com a conversão dos nativos ao cristianismo. Naturalmente que transcorrido mais de 450 anos do lançamento dos seus fundamentos, o Estado brasileiro assumiu formas diversas, sendo gradativamente nacionalizado e colocado a serviço do desenvolvimento econômico e social.”

Sobre o processo de formação do Estado no Brasil, é incorreto afirmar que:

- a) A origem do Estado no Brasil data da chegada da família real ao Brasil.
- b) Uma das funções era garantir o funcionamento da indústria açucareira e da extrativista.
- c) Durante o processo de formação do Estado no Brasil, a Companhia de Jesus aliada ao estado absolutista lusitano assumiu a função de catequese dos índios espalhados pela vastidão territorial brasileira.
- d) Era necessário assegurar ao Reino de Portugal a posse, a mais extensa possível, do perímetro litorâneo da terra recém descoberta.

- c) A Guerra Síria é um conflito civil que começou como uma série de grandes protestos populares em 2011.
- d) O Irã, de maioria xiita é um dos países aliados de Bashar al-Assad

17. Observe a imagem abaixo:



A charge pode ser uma crítica:

- a) Os ataques químicos de Trump.
- b) O ataques aéreos dos EUA e aliados à Síria.
- c) O apoio de Trump frente ao uso de armas nucleares.
- d) Ao uso de mísseis e armas químicas pelos EUA.

18. Sobre a Guerra da Síria não podemos afirmar que:

- a) O governo de Bashar al-Assad recebe apoio de Vladimir Putin, presidente da Rússia.
- b) A guerra iniciou após os ataques americanos ao país.

19- A meta 16 do Plano Nacional de Educação consiste em: "formar, em nível de pósgraduação, _____ dos professores da educação básica, até o último ano de vigência deste PNE, e garantir a todos(as) os(as) profissionais da educação básica formação continuada em sua área de atuação, considerando as necessidades, demandas e contextualizações dos sistemas de ensino." Complete corretamente a lacuna:

- a) 25% (vinte e cinco por cento)
- b) 50% (cinquenta por cento)
- c) 75% (setenta e cinco por cento)
- d) 100% (cem por cento)

20- De acordo com a Lei de diretrizes e bases da educação nacional, a educação básica é formada:

- a) pela educação infantil.
- b) pela educação infantil e ensino fundamental.
- c) pela educação infantil, ensino fundamental e ensino médio.
- d) pela educação infantil, ensino fundamental, ensino médio e educação superior.