



Nome do Candidato \_\_\_\_\_

Inscrição \_\_\_\_\_

Prefeitura Municipal  
de Lavrinhas

# Caderno de Prova



06/05/2018






1h 30m de duração



20 questões

**Cargo:** Professor PEB II - Geografia (Jornada Básica)

## INSTRUÇÕES

- Só abra este caderno quando o fiscal autorizar.
- Verifique se este caderno contém 20 questões, numeradas de 1 a 20. Caso contrário, solicite ao fiscal da sala um outro caderno.
- Para cada questão existe apenas UMA resposta certa.
- Transcreva, **com tinta preta**, as alternativas escolhidas para a GABARITO OFICIAL, sem cometer rasuras. Não deixe nenhuma em branco.     
**Certo Errado Errado**
- Não será possível a substituição do Gabarito Oficial.
- Não será permitida qualquer espécie de consulta.
- Não haverá tempo adicional para transcrição de respostas ao gabarito oficial.
- Terminada a prova entregue o gabarito oficial, a folha da prova dissertativa e o caderno de questões ao fiscal. Poderá ser levado **somente** o gabarito provisório de respostas.

## Gabarito provisório

1.	6.	11.	16.				
2.	7.	12.	17.				
3.	8.	13.	18.				
4.	9.	14.	19.				
5.	10.	15.	20.				



AGIRH – Assessoria e Gestão Integrada  
em Recursos Humanos S/C Ltda  
Email: contato@agirh.org  
http://www.agirh.org

## Geografia Jornada Basica

### Português

Leia atentamente o poema *Poemas aos homens do nosso tempo - XVI*, de Hilda Hilst, escritora brasileira, para responder às questões de **1 a 5**.

#### **Poemas aos homens de nosso tempo - XVI**

Enquanto faço o verso, tu decerto vives.  
Trabalhas tua riqueza, e eu trabalho o sangue.  
Dirás que sangue é o não teres teu ouro  
E o poeta te diz: compra o teu tempo

Contempla o teu viver que corre, escuta  
O teu ouro de dentro. É outro o amarelo que te falo.  
Enquanto faço o verso, tu que não me lês  
Sorris, se do meu verso ardente alguém te fala.  
O ser poeta te sabe a ornamento, desconversas:  
“Meu precioso tempo não pode ser perdido com os poetas”.  
Irmão do meu momento: quando eu morrer  
Uma coisa infinita também morre. É difícil dizê-lo:  
MORRE O AMOR DE UM POETA.  
E isso é tanto, que o teu ouro não compra,  
E tão raro, que o mínimo pedaço, de tão vasto

Não cabe no meu canto.

**01.** Este excerto tem como tema central:

- a) A crítica ao materialismo exacerbado, que não permite que os indivíduos percebam a riqueza que existe na arte, nos sentimentos, na poesia.
- b) O apoio à busca do ouro, metal precioso muito importante para o desenvolvimento da humanidade.
- c) O amor não correspondido de um homem que deseja cobrir de joias a sua amada.
- d) A crítica ao sentimentalismo exagerado, que tenta se sobrepôr às necessidades materiais, que são muito mais importantes.

**02.** Nos versos: “Trabalhas tua riqueza, e eu trabalho o sangue. / Dirás que sangue é o não teres teu ouro”, a palavra “sangue” é utilizada para expressar a ideia de:

- a) Perdão.
- b) Sacrifício.

- c) Troca.
- d) Riqueza.

**03.** O poema inteiro trata do eu lírico em primeira pessoa, exceto no verso: “E o poeta te diz: compra o teu tempo”. A autora utilizou-se desse artifício para:

- a) Distanciar-se do conflito.
- b) Deixar clara que a contraposição existe entre o indivíduo materialista e o poeta, enquanto categoria, e não entre o materialista e o eu lírico, simplesmente.
- c) Eximir-se da culpa de não sensibilizar as pessoas materialistas.
- d) Inserir-se no grupo dos indivíduos materialistas.

**04.** No verso: “E isso é tanto, que o teu ouro não compra”, “isso” refere-se a:

- a) O ouro.
- b) A poesia.
- c) O amor de um poeta.
- d) O poeta.

**05.** Observe o verso: “Contempla o teu viver que corre, escuta”. Se trocarmos os verbos “contemplar” e “escutar” por “ver” e “ouvir”, temos:

- a) Veja o teu viver que corre, ouça.
- b) Veja o teu viver que corre, ouve.
- c) Vê o teu viver que corre, ouça.
- d) Vê o teu viver que corre, ouve.

### **CONHECIMENTOS GERAIS**

**06.** O presidente e fundador do Facebook classificou a incapacidade da empresa de prevenir episódios como a atuação da empresa Cambridge Analytica e a interferência russa nas eleições dos EUA de 2016 como “um grande erro” e pediu desculpas. O nome do presidente é:

- a) John Tune.
- b) Mark Zuckerberg.
- c) Bill Gates.
- d) Steve Jobs.

**07.** Até agora exercia o cargo de primeiro vice-presidente do governo de Cuba, quando foi eleito quinta-feira, 19/04/2018, como presidente do país pela Assembleia Nacional em substituição do general Raúl Castro, que se retira do poder após 12 anos. Trata-se de:

- a) Miguel Díaz-Canel.
- b) Salvador Valdés Mesa.
- c) Gladys Bejerano.
- d) Homero Acosta.

**08.** "A partir do pôr do sol do dia 18/04/2018, os judeus dão início às comemorações dos 70 anos \_\_\_\_\_. Apesar de a data histórica ter sido em 14 de maio, os judeus comemoram neste dia pois seguem o calendário judaico, que é diferente do calendário gregoriano e baseado nos ciclos da Lua." Completa corretamente a lacuna:

- a) Da criação da Organização das Nações Unidas (ONU).
- b) Da queda do nazismo.
- c) Da criação do Estado de Israel.
- d) Do fim do Holocausto.

**09.** Moon Jae-In, disse dia 19/04/2018 que a Coreia do Norte expressou compromisso com a "desnuclearização completa". Ele acrescentou que Pyongyang não está impondo condições para que este processo seja iniciado. As declarações foram dadas depois de o presidente Donald Trump ter dito que o encontro entre Estados Unidos (EUA) e Coreia do Norte só acontecerá "se for frutífero". Moon Jae-In é presidente da:

- a) Coreia do Norte.
- b) Coreia do Sul.
- c) China.
- d) Japão.

**10.** A Lei Orgânica Municipal de Lavrinha poderá ser emendada mediante proposta:

I - de um terço, no mínimo, dos membros da Câmara Municipal.

II - do Prefeito Municipal.

III - de iniciativa popular.

Assinale a alternativa correta:

- a) Apenas I
- b) Apenas II
- c) Apenas III
- d) I, II e III

11. Considere o mapa abaixo para responder à questão e leia as afirmações a seguir:



- I. A região Centro-Oeste possui a maior densidade demográfica.
  - II. A região litorânea brasileira possui maior densidade demográfica quando comparada com a região central do país.
  - III. Rondônia é o estado da região norte com a menor densidade demográfica.
  - IV. Tocantins é o estado da região nordeste com a menor densidade demográfica.
- Considerando o mapa representado acima, estão incorretas as afirmações:

- a) I, III e IV
- b) I, II e III
- c) Apenas I e IV
- d) Todas as alternativas estão incorretas.

12. Sobre os tipos de fontes de energia abaixo, não podemos afirmar que:

- a) A energia maremotriz é uma forma de geração de eletricidade obtida a partir das alterações de nível das marés, através de barragens ou através de turbinas submersas.

- b) Os biocombustíveis são caracterizados por serem do tipo renovável. São originados de produtos vegetais como a mamona e a cana-de-açúcar, por exemplo.
- c) O gás natural produzido no Brasil é predominantemente de origem associada ao petróleo e se destina a diversos mercados de consumo, sendo os principais, a geração de energia termelétrica e os segmentos industriais.
- d) A energia geotérmica se caracteriza pelo calor proveniente da Terra, é a energia calorífera gerada a menos de 64 quilômetros da superfície terrestre, em uma camada de rochas, chamada magma, que chega a atingir até 6.000°C. Um de seus aspectos negativos é que sua alta emissão de gases poluentes (CO<sub>2</sub> e SO<sub>2</sub>).

**13.** Assinale a alternativa que preenche corretamente as lacunas:

A \_\_\_\_\_ prejudica as lavouras, altera os ecossistemas aquáticos, contribui para a destruição de florestas, danifica edifícios, corrói monumentos históricos, contamina a água potável, e sobretudo, prejudica a saúde humana.

A \_\_\_\_\_ é o processo de desgaste, transporte e sedimentação do solo, dos subsolos e das rochas como efeito da ação dos agentes erosivos, tais como a água, os ventos e os seres vivos.

O \_\_\_\_\_ em si é um processo natural que ocorre na nossa atmosfera e que é benéfico, pois mantém a temperatura do planeta amena e sem grandes variações. No entanto, o problema é a exacerbação desse efeito, o que leva ao aquecimento global.

- a) Erosão, efeito estufa e chuva ácida.
- b) Chuva ácida, efeito estufa e erosão.
- c) Efeito estufa, chuva ácida e erosão.
- d) Chuva ácida, erosão, efeito estufa.

**14.** Sobre a criação do estado de Israel e seus desdobramentos assinale a alternativa correta:

a) Em 1947, um Comitê Especial das Nações Unidas propôs a partilha da Palestina entre árabes e judeus, o que culminou no primeiro conflito entre as nações, chamado de Primeira Guerra Árabe-Israelense e impossibilitou a fundação do Estado de Israel.

b) Após a separação da Palestina, os judeus ficaram com 14.000km<sup>2</sup> do território e os árabes, que eram maioria na região, com 11.500km<sup>2</sup>. Já a capital Jerusalém, sagrada para as regiões judaica e islâmica, ficou sob administração da Organização das Nações Unidas (ONU).

c) O episódio da separação territorial entre árabes e judeus recebeu o nome de "Questão Palestina" e revoltou judeus que se opuseram a partilha, gerando sucessivos conflitos entre os povos.

d) A separação da Palestina agradou os povos árabes, o que culminou na fundação do Estado de Israel no ano seguinte.

**15.** Assinale a alternativa que preenche corretamente as lacunas:

Com topos arredondados, os \_\_\_\_\_ são formas de relevo com altitudes entre 300 e 900 metros.

Constituídas em grande parte de arenito, as \_\_\_\_\_ em geral situam-se a altitudes acima dos 600 metros.

Formadas por cadeias de morros pontiagudos, as \_\_\_\_\_ possuem altitude que variam de 600 a 3.000 metros.

- a) Morros, chapadas e serras
- b) Chapadas, morros e serras
- c) Serras, chapadas e morros
- d) Morros, serras e chapadas

**16.** Assinale a alternativa que preenche corretamente as lacunas:

A \_\_\_\_\_ é formada pelo sistema de cidades, no território de cada país interligadas umas às outras através dos sistemas de transportes e de comunicações, pelos quais fluem pessoas, mercadorias, informações etc.

\_\_\_\_\_ é a cidade de maior porte que se caracteriza pelo poder de atração e influência que exerce sobre um expressivo número de cidades do seu entorno.

\_\_\_\_\_ são cidades médias que exercem influência em âmbito regional.

Normalmente são referência no desenvolvimento da produção de bens e serviços para as cidades de seu entorno.

- a) Cidades locais, centros regionais e metrópole
- b) Rede urbana, centros regionais e cidades locais
- c) Rede urbana, metrópole e centros regionais
- d) Cidades locais, metrópole e vilas

**17.** Leia as afirmações abaixo sobre fatores climáticos:

- I. Latitudes mais próximas do Equador recebem maiores quantidades de raios solares tendo, conseqüentemente, temperaturas médias maiores.
- II. O aumento da altitude torna o ar mais rarefeito, e por isso a temperatura tende a ser menor.
- III. A continentalidade é o fenômeno que se referem à maior ou menor proximidade de grandes massas de água, mas que não interfere na variação da umidade e temperatura dos lugares.
- IV. As correntes marítimas são movimentadas pela rotação da terra. Embora sejam importantes, as correntes marítimas não têm o poder de interferir na temperatura atmosférica.

Estão incorretas:

- a) I e II
- b) II e III
- c) I, III e IV
- d) III e IV

**18.** De acordo a Lei 8.069 de 13/07/1990 – Estatuto da Criança e do Adolescente, Do Direito à Profissionalização e à Proteção no Trabalho, assinale a alternativa correta:

- a) É proibido qualquer trabalho a menores de dezoito anos de idade, salvo na condição de aprendiz.
- b) A remuneração que o adolescente recebe pelo trabalho efetuado ou a participação na venda dos produtos de seu trabalho desfigura totalmente o caráter educativo.
- c) Ao adolescente portador de deficiência é assegurado trabalho protegido.
- d) Ao adolescente até vinte e um anos de idade é assegurada bolsa de aprendizagem.

**19.** De acordo a Lei 8.069 de 13/07/1990 – Estatuto da Criança e do Adolescente; sobre a colocação em família substituta, assinale a INCORRETA:

- a) A colocação em família substituta far-se-á mediante guarda, tutela ou adoção, independentemente da situação jurídica da criança ou adolescente.
- b) Tratando-se de maior de 5 (cinco) anos de idade, será necessário seu consentimento, colhido em audiência.
- c) Não se deferirá colocação em família substituta a pessoa que revele, por qualquer modo, incompatibilidade com a natureza da medida ou não ofereça ambiente familiar adequado.
- d) A colocação em família substituta estrangeira constitui medida excepcional, somente admissível na modalidade de adoção.

**20,** Sobre o Plano Nacional de Educação:

- I- Este plano determina diretrizes, metas e estratégias para a política educacional dos próximos vinte anos.
  - II- O primeiro grupo são metas estruturantes para a garantia do direito a educação básica com qualidade
  - III- O segundo grupo de metas diz respeito especificamente à redução das desigualdades e à valorização da diversidade, caminhos imprescindíveis para a equidade.
  - IV- O terceiro bloco de metas trata da valorização dos profissionais da educação, considerada estratégica para que as metas anteriores sejam atingidas,
- São corretas:
- a) I, II e III
  - b) II, III e IV
  - c) I, II e IV
  - d) I, II, III e IV