

Prefeitura Municipal
de Lavrinhas

Nome do Candidato

Inscrição

Caderno de Prova



Data 14/12/2019



3h00 de duração




40 questões

Cargo: Escrivurário

INSTRUÇÕES

- Só abra este caderno quando o fiscal autorizar.
- Verifique se este caderno contém 40 questões, numeradas de 1 a 40. Caso contrário, solicite ao fiscal da sala um outro caderno.
- Para cada questão existe apenas UMA resposta certa.
- Transcreva, **com caneta de tinta preta**, as alternativas escolhidas para o GABARITO OFICIAL, sem cometer rasuras. Não deixe nenhuma em branco.
- Não será possível a substituição do Gabarito Oficial.
- Não será permitida qualquer espécie de consulta.
- Não haverá tempo adicional para transcrição de respostas ao gabarito oficial.
- Terminada a prova entregue o gabarito oficial, a folha da prova dissertativa e o caderno de questões ao fiscal. Poderá ser levado **somente** o gabarito provisório de respostas.

  
Certo Errado Errado

Gabarito Provisório

1)	6)	11)	16)	21)	26)	31)	36)	41)	46)
2)	7)	12)	17)	22)	27)	32)	37)	42)	47)
3)	8)	13)	18)	23)	28)	33)	38)	43)	48)
4)	9)	14)	19)	24)	29)	34)	39)	44)	49)
5)	10)	15)	20)	25)	30)	35)	40)	45)	50)



AGIRH – Assessoria e Gestão Integrada
em Recursos Humanos S/C Ltda
Email: contato@agirh.org
<http://www.agirh.org>

PREFEITURA MUNICIPAL DE LAVRINHAS

CONCURSO PÚBLICO 01/19

Cargo: Escrivário

Leia atentamente o poema *Cartas de Meu Avô*, escrito por Manuel Bandeira, poeta brasileiro, para responder às questões de **1 a 3**.

Cartas de Meu Avô

A tarde cai, por demais

Erma, úmida e silente...

A chuva, em gotas glaciais,

Chora monotonamente.

E quando anoitece, vou

Lendo, sossegado e só,

As cartas que meu avô

Escrevia a minha avó.

Enternecido sorriso

Do fervor desses carinhos:

É que os conheci velhinhos,

Quando o fogo era já frio.

Cartas de antes do noivado...

Cartas de amor que começa,

Inquieto, maravilhado,

E sem saber o que peça.

Temendo a cada momento
Ofendê-la, desgostá-la,
Quer ler em seu pensamento
E balbucia, não fala...

A mão pálida tremia
Contando o seu grande bem.
Mas, como o dele, batia
Dela o coração também.

A paixão, medrosa dantes,
Cresceu, dominou-o todo.
E as confissões hesitantes
Mudaram logo de modo.

Depois o espinho do ciúme...
A dor... a visão da morte...
Mas, calmado o vento, o lume
Brilhou, mais puro e mais forte.

E eu bendigo, envergonhado,
Esse amor, avô do meu...
Do meu, – fruto sem cuidado
Que ainda verde apodreceu.

O meu semblante está enxuto.
Mas a alma, em gotas mansas,
Chora abismada no luto
Das minhas desesperanças...

E a noite vem, por demais
Erma, úmida e silente...
A chuva, em pingos glaciais,
Cai melancolicamente.

E enquanto anoitece, vou
Lendo, sossegado e só,
As cartas que meu avô
Escrevia a minha avó.

01- Leia atentamente as afirmações a seguir:

I – O poema apresenta dois “tempos narrativos”: há o momento passado, descrito nas cartas, em que os avós do eu lírico se relacionaram; há o momento presente da leitura das cartas.

II – A imagem que o eu lírico tinha de seus avós coincidiu com a imagem construída a partir da leitura das cartas de amor.

III – O conteúdo das cartas revela um amor que se manteve constante. Nas cartas, o avô enaltece as características da mulher amada, o que representa um amor idealizado.

É (São) correta(s) a(s) afirmação(ões):

- a) Apenas I.
- b) II e III.
- c) I e II.
- d) I e III

02- Leia atentamente as afirmações a seguir:

I – O poema começa e termina com a descrição de situações meteorológicas no momento em que o eu lírico lia as cartas de amor trocadas por seus avós. É possível afirmar que existe uma aproximação entre essa descrição do clima e os sentimentos do eu lírico, pois são elementos que descrevem seu estado psicológico melancólico.

II – A primeira estrofe reaparece na penúltima estrofe, com sutis modificações. Os versos “A tarde cai” e “E a noite que vem” trazem uma ideia de fluidez e continuidade.

III – A figura de linguagem presente nos versos “A chuva, em gotas glaciais, / Chora monotonamente” é prosopopeia.

É (São) **correta(s)** a(s) afirmação(ões):

- a) Todas.
- b) I e II.
- c) II e III.
- d) Apenas III.

03- A palavra “silente”, presente na primeira estrofe, pode ser substituída, sem prejuízo semântico, por:

- a) Lúgubre.
- b) Silenciosa.
- c) Solitária.
- d) Soturna.

Leia atentamente a tirinha do garotinho Calvin a seguir para responder às questões 4 e 5:



04. Leia as afirmações a seguir:

I – No primeiro quadrinho, Calvin demonstra entusiasmo com a conquista de uma borboleta.

II – A fala de Haroldo, no segundo quadrinho, discorre sobre arco-íris e não possui relação com o assunto apresentado por Calvin, no primeiro quadrinho.

III – A tirinha leva o leitor a refletir sobre a ação do homem em relação à liberdade dos animais.

É (São) incorreta(s) a(s) afirmativa(s):

- a) I e III.
- b) Apenas III.
- c) I e II.
- d) Apenas II.

05- Assinale a alternativa incorreta:

- a) No primeiro quadrinho, o verbo “olha” está no imperativo.
- b) O plural da palavra “arco-íris” é “arco-íris”.
- c) No segundo quadrinho, Haroldo apresenta um exemplo de oração subordinada adverbial, que exprime uma condição.
- d) A fala de Haroldo, no segundo quadrinho, não está de acordo com a norma culta.

06- A alternativa cujos termos em destaque não são exemplos de termos integrantes da oração é:

- a) Este bilhete foi escrito **por mim**.
- b) O menino **que** conheci mês passado está viajando.
- c) Trouxe os pratos **de bambu**.
- d) Frederico estava consciente **de tudo**.

07- Assinale a alternativa em que ocorre um exemplo de advérbio superlativo sintético:

- a) Pedro é inteligentíssimo.
- b) Cristiane sabe mais que Fernando.
- c) Viviane é menos rica que Alfredo.
- d) Renato fala altíssimo.

08- Assinale a alternativa correta, segundo a norma culta da Língua Portuguesa:

- a) Pedi que ele entregasse tudo a você.
- b) Sinto-me aliviado se você disser tudo a ele.
- c) O voto será computado quando você aperta o botão.
- d) Se você resolvesse o enigma, ganhará um prêmio.

09- Assinale a alternativa que está de acordo com a norma culta da Língua Portuguesa:

- a) É necessário várias medidas socioeducativas.
- b) É permitido entrada de crianças.
- c) Nós mesmo faremos isso.
- d) Segue incluso os documentos solicitados.

10-São obrigatoriamente acentuadas as palavras:

- a) início, inclui-lo, lampada.
- b) benção, pore**m**, beija-la.
- c) papeis, intervem, polen.
- d) saida, vigilia, principio.

Matemática

11- Sendo a, um número natural maior do que 6 e menor do que 13 e b, um número natural maior do que 17 e menor do que 42, o maior valor que $\frac{b}{a}$ pode assumir é:

- a) $\frac{13}{41}$
- b) $\frac{41}{13}$
- c) $\frac{7}{41}$
- d) $\frac{41}{7}$

12- Para ir de casa para o trabalho de carro e voltar do trabalho para casa de bicicleta, um homem leva 40 minutos. Quando faz o percurso de ida e volta de carro ele leva 18 minutos, logo ao fazer o percurso de ida e volta de bicicleta ele levará:

- a) 1h 02min
- b) 1h 08min
- c) 1h 12min
- d) 1h 22min

13- O par que representa a solução do sistema linear $\begin{cases} x - y = 25 \\ 2x + 3y = -40 \end{cases}$ é:

- a) (30, 5)
- b) (34, 9)
- c) (5, -20)
- d) (7, -18)

14- José e Antônio decidiram montar um negócio próprio. José participou com um capital de R\$ 28.000,00 e Juliana com R\$ 13.000,00, combinando que o lucro seria dividido proporcionalmente ao capital investido. O lucro que obtiveram com seu negócio após alguns meses foi de R\$ 16.400,00, logo a parte devida a José será de:

- a) R\$ 11.200,00
- b) R\$ 11.600,00
- c) R\$ 12.000,00
- d) R\$ 12.600,00

15- Em um campeonato, um time de handball ganhou 20 dos 25 jogos que participou. Sabendo que ainda faltam 25 jogos pela frente, o número de jogos que o time precisa vencer para que o número de vitórias no campeonato seja de 70% é:

- a) 10
- b) 15
- c) 20
- d) 25

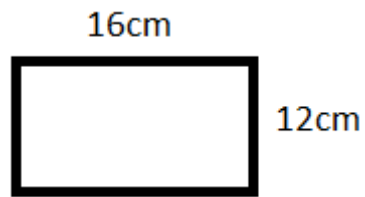
16- Em uma prova de matemática, 20% dos alunos tiraram 5,0, 45% tiraram 6,0, 20% tiraram 7,5 e os demais tiraram 10,0. A média aritmética das notas desses alunos é:

- a) 6,2
- b) 6,5
- c) 6,7
- d) 7,2

17- Um reservatório na forma de um paralelepípedo tem as dimensões de 10 dm x 6 dm x 5 dm e está totalmente cheio de água. Um furo nesse tanque faz com que a água vaze 6 litros por hora, fazendo com que o tanque esvazie completamente após:

- a) 2 dias e 08 horas
- b) 2 dias e 10 horas
- c) 2 dias e 12 horas
- d) 2 dias e 14 horas

18- O desenho do retângulo abaixo está na escala 1:25. Podemos afirmar que as dimensões reais do retângulo são:

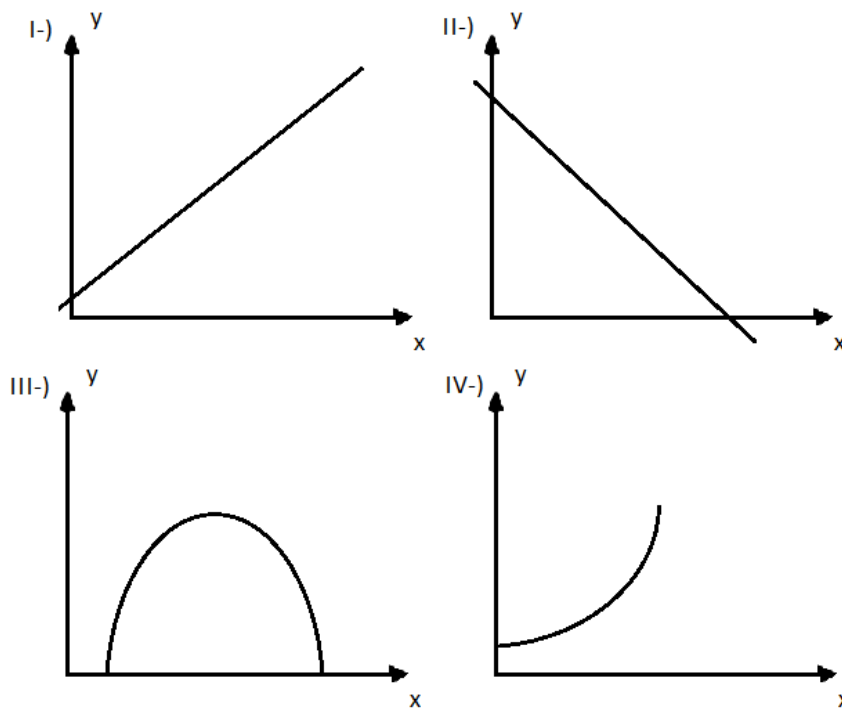


- a) 48 x 64 cm
- b) 1.57 x 2.08 m
- c) 30 x 40 m
- d) 3 x 4 m

19- Se a diferença entre dois números é 5 e a divisão entre esses números também é 5, então a soma entre eles será:

- a) 5
- b) 6
- c) 6,5
- d) 7,5

20- O gráfico que melhor representa a função $y = -x + 4$ é:



- a) I
- b) II
- c) III
- d) IV

Conhecimentos Gerais:

21-A Flip – Festa Literária Internacional de Paraty é uma celebração da literatura, mas sua ação se estende a outros campos culturais. A Flip atua junto à cidade que a abriga e lança pontes com a comunidade internacional de escritores. Qual a autora homenageado pela Flip em 2020, que está recebendo muitas críticas?

- a) Elizabeth Bishop
- b) Lygia Fagundes Teles
- c) Raquel Queiroz
- d) Hilda Hilst

22- 30% dos mais de 100 milhões de trabalhadores brasileiros sofrem com a Síndrome de Burnout. Segundo o Ministério da Fazenda, só em 2017, cerca de 179 mil trabalhadores no Brasil foram afastados de suas atividades. A síndrome refere-se a:

- a) Esgotamento físico e mental relacionado ao trabalho.
- b) Ansiedade relacionada ao futuro do País.
- c) Transtornos osteo-musculares.
- d) Luto com morte de familiares.

23-A Força Aérea do (a) _____ anunciou nesta terça-feira (10/12/19) ter perdido "o contato via rádio" com um avião militar C130, que levava 38 pessoas a bordo. Ele decolou de Punta Arenas, sul do país, para uma base na Antártica. Preenche corretamente a lacuna:

- a) Bolívia.
- b) Chile.
- c) Colômbia.
- d) Argentina.

24-Marie Fredriksson, a cantora sueca que ficou conhecida como a voz do Roxette, morreu dia 09 de dezembro de 2019, aos 61 anos de idade. A musicista lutava desde 2002 contra:

- a) Um câncer no cérebro.
- b) Fibromialgia.
- c) Depressão.
- d) Câncer de pâncreas.

25-Os Jogos Olímpicos de 2020 será realizado na:

- a) França
- b) Estados Unidos
- c) África
- d) Japão

26- Complete: Segundo o artigo 68º, da Lei Orgânica de Lavrinhas, o Prefeito e o Vice-Prefeito não poderão, sem licença da Câmara Municipal, ausentar-se do Município, _____, sob pena de perda do mandato.

- a) Por período superior a 05 (cinco) dias.
- b) Por período superior a 10 (dez) dias.
- c) Por período superior a 15 (quinze) dias.
- d) Por período superior a 20 (vinte) dias.

27- Artigo 165º da Lei Orgânica: A ação do Município no campo da assistência social objetivava:

I – A integração do indivíduo ao mercado de trabalho e no meio social;

II – O amparo à velhice e a criança abandonada;

III – A integração das comunidades carentes.

IV- O tratamento dos dependentes químicos do município.

São corretas:

- a) I e II
- b) I e III
- c) I, II, III
- d) I, II, III e IV

28- Lavrinhas foi inserida no mapa do Turismo Brasileiro em:

- a) 2015
- b) 2017
- c) 2018
- d) 2019

29- Sobre Lavrinhas assinale a alternativa incorreta:

- a) Lavrinhas conta hoje com sete bairros assim desenvolvidos: Centro, Pinheiros, Capela do Jacu, Jardim Mavisou e Village Campestre e ainda uma vasta zona rural onde se encontram os bairros Retiro dos Barbosa e Rio Claro.
- b) Localiza-se no estado de São Paulo, na região administrativa de São José dos Campos, no Vale do Paraíba Paulista, integrando o Circuito turístico "Caminhos do Rio Paraíba"
- c) Faz parte de duas importantes rotas, a Rota Franciscana (Religiosa – rota equilíbrio – Frei Galvão) e Estrada Real (maior rota turística do país. São mais de 1.630km de extensão, passando por Minas Gerais, Rio de Janeiro e São Paulo).
- d) Possui uma área total de quase 167 Km² e delimita-se com os municípios de Cruzeiro, Queluz e Silveiras, no estado de São Paulo e a cidade de Paraisópolis, no estado de Minas Gerais.

30- Complete: O município de Lavrinhas teve origem no povoado fundado por Honório Fidélis do Espírito Santo e Manoel Novaes da Cruz, em 1828, em torno da Capela de São Francisco de Paula, na localidade denominada Pinheiros. Este povoado levou inicialmente o nome de São Francisco de Paula dos Pinheiros e pertencia ao antigo território de _____.

- a) Queluz
- b) Cruzeiro
- c) Areias
- d) Pinheiros

Conhecimentos Específicos

31- "Acervo" se refere:

- a) A um ou mais conjuntos de documentos, de qualquer época, forma e suporte material, produzidos, recebidos e acumulados em processo natural.
- b) A totalidade dos documentos conservados num arquivo.
- c) Ao conjunto de documentos preservados em caráter definitivo em função de seu valor para a eficácia da ação administrativa, como prova, garantia de direitos ou fonte de pesquisa.
- d) Aos documentos originários de arquivos correntes, com uso pouco frequente, que aguardam em depósito de armazenamento temporário sua destinação final.

32- Considerando que há dois sistemas principais de reposição de estoque: periódico e contínuo, é INCORRETO afirmar que:

- a) Sistema de reposição periódica também é chamado de Modelo de estoque máximo ou Modelo de intervalo padrão.
- b) No sistema de reposição periódica os pedidos de estoques são feitos periodicamente.

- c) No sistema de reposição contínua, sempre que o estoque atingir uma determinada quantidade, um novo pedido de compra é emitido. Esta quantidade é chamada de Ponto de Pedido.
- d) No sistema de reposição contínua a quantidade comprada, somada com a existente em estoque, deve ser suficiente para atender o consumo até a chegada da encomenda seguinte.

33- A concisão é antes uma qualidade do que uma característica do texto oficial. Conciso é o texto que:

- a) consegue transmitir o máximo de informações com o mínimo de palavras.
- b) vai diretamente ao assunto que se deseja abordar, sem voltas e sem redundâncias.
- c) possibilita imediata compreensão pelo leitor.
- d) se caracteriza por ser impessoal e formal.

34- Os pronomes de tratamento apresentam certas peculiaridades quanto às concordâncias verbal, nominal e pronominal. Embora se refiram à segunda pessoa gramatical (à pessoa com quem se fala), levam a concordância para a:

- a) primeira pessoa.
- b) segunda pessoa.
- c) terceira pessoa.
- d) quarta pessoa.

35- Na grafia de datas em um documento, o conteúdo deve constar da seguinte forma:

- a) Deve-se utilizar a sigla da unidade da federação depois do nome da cidade.
- b) Deve-se utilizar zero à esquerda do número que indica o dia do mês.
- c) O nome do mês deve ser escrito com inicial maiúscula.
- d) O texto da data deve ser alinhado à margem direita da página.

36- A estrutura dos atos normativos é composta por dois elementos básicos: a _____ e a _____. A primeira compreende a parte preliminar e o fecho da lei ou do decreto; enquanto a segunda diz respeito ao texto ou ao corpo do ato. Preenche corretamente as lacunas, respectivamente:

- a) epígrafe; ementa.
- b) cláusula de revogação; cláusula de vigência.
- c) disposições transitórias; referenda.
- d) ordem legislativa; matéria legislada.

37- A Lei complementar:

- a) É ato normativo primário e contém, em regra, normas gerais e abstratas.
- b) São um tipo de lei que têm a rigidez dos preceitos constitucionais.
- c) É o ato normativo elaborado e editado pelo Presidente da República em decorrência de autorização do Poder Legislativo, expedida por meio de resolução do Congresso Nacional e dentro dos limites nela traçados.
- d) Deve ser aprovada pela maioria absoluta de cada uma das Casas do Congresso Nacional.

38- Sobre o Microsoft Excel, julgue:

I. É um software para criação e manutenção de planilhas eletrônicas.

II. O Excel permite, além da manipulação de cálculos em planilhas, a inclusão de gráficos com base nos dados das planilhas.

III. Podem ser criadas planilhas de cálculos para orçamentos, previsões e planejamentos para investimentos futuros, diversos tipos de tabelas, controles de gastos, controle de caixa etc.

IV. Célula ativa é a célula exibida com uma borda em negrito, que indica que a célula está selecionada, pronta para a digitação de dados.

São corretas:

a) afirmativas I e IV.

b) afirmativas II e III.

c) afirmativas I, III e IV.

d) todas afirmativas.

39- Esta tecla gera comandos especiais quando usada em conjunto com outra tecla. Esses comandos dependem do programa em uso. Trata-se de qual tecla do teclado do computador?

a) Tab

b) Ctrl

c) Alt

d) Alt Gr

40- Julgue as seguintes afirmativas sobre o Word:

I. Um cabeçalho ou rodapé consiste em texto ou elementos gráficos - como um número de página, a data ou um logotipo da empresa - que geralmente são impressos na parte superior ou inferiores de cada página de um documento.

II. O comando "Símbolo" é muito utilizado para acrescentar caracteres que não estão presentes no teclado, como, por exemplo setas e ícones.

III. Pode-se criar notas de comentários para o texto digitado no Word. Essas notas são muito utilizadas para explicar e ilustrar o que está sendo comentado.

IV. A combinação de teclas Ctrl+S leva ao efeito de sublinhado simples no texto.

São corretas:

a) afirmativas I e IV.

b) afirmativas II e III.

c) afirmativas I, III e IV.

d) todas afirmativas.