

Prefeitura Municipal  
de Cunha

# Caderno de Prova



Data 23/07/2023



02h de duração






30 questões

## Cargo: Técnico de Manutenção e Informática

### INSTRUÇÕES

- Só abra este caderno quando o fiscal autorizar.
- Verifique se este caderno contém 30 questões, numeradas de 1 a 30. Caso contrário, solicite ao fiscal da sala um outro caderno.
- Para cada questão existe apenas UMA resposta certa.
- Transcreva, preferencialmente **com caneta de tinta preta**, as alternativas escolhidas para o GABARITO OFICIAL, sem cometer rasuras. Não deixe nenhuma em branco.
- Não será possível a substituição do Gabarito Oficial.
- Não será permitida qualquer espécie de consulta.
- Não haverá tempo adicional para transcrição de respostas ao gabarito oficial.
- Terminada a prova entregue o gabarito oficial ao fiscal.
- Ao entregar a prova o candidato deverá deixar o prédio e não poderá utilizar os sanitários.

    
Certo Errado Errado

## Gabarito Provisório

1)	6)	11)	16)	21)	26)
2)	7)	12)	17)	22)	27)
3)	8)	13)	18)	23)	28)
4)	9)	14)	19)	24)	29)
5)	10)	15)	20)	25)	30)

## PREFEITURA MUNICIPAL DE CUNHA

Concurso Público 01/2023

### Cargo: Técnico de Manutenção e Informática

#### Português

1-Leia as frases, complete-as com os pronomes eu ou mim e marque a alternativa que completa corretamente as frases:

I - Esse dilema será resolvido apenas entre \_\_\_\_ e você.

II - Isso nem é um problema para \_\_\_\_.

III - Se você não vai ajudar, o problema será resolvido por \_\_\_\_ e por ele.

IV - Esse dilema é para \_\_\_\_ resolver.

a) mim/ eu/ mim/ mim

b) mim/ mim/ mim/ eu

c) eu/ mim/ mim/ mim

d) mim/ mim/ eu/ mim

2-Assinale as opções em que a colocação pronominal **não** está correta.

a) Minha garotinha me aguarda sempre no portão.

b) Não se sinta pressionado com essa injustiça.

c) Me diz tudinho, tin tin por tin tin ...

d) Ajudá-lo-ei no que for necessário.

3-Sobre a reescrita do trecho a seguir, sem prejuízo de sentido, assinale a alternativa que transcreve corretamente a ideia:

a) Nossa produção teve que viajar para a parte mais alta do país só para obter sucesso na missão. A necessidade é real. Está acontecendo agora.

b) Nossa produção teve que viajar para a parte mais alta do país para obter sucesso na missão, por que a necessidade é real e está acontecendo agora.

c) Nossa produção teve que viajar para a parte mais alta do país para obter sucesso na missão, todavia, a necessidade é real e está acontecendo agora.

d) Nossa produção teve que viajar para a parte mais alta do país para obter sucesso na missão, pois a necessidade é real e está acontecendo agora.

Leia atentamente o texto e responda às questões 4 e 5:

Medida Certa

Oi, tô te ligando pra você passar aqui em casa

Hoje à noite, se tiver desocupada

Só se der, só se der

Não, não vai dizer pra ninguém que sinto saudades

Não é verdade

Eu e você, nada a ver

É que meu pente perguntou do seu cabelo

Ouvi reclamações do meu espelho

Querendo saber de você

Que dia ele vai te ver  
Eu juro que, pra mim, pouco me importa  
Se eu passo toda hora na sua porta  
Meu carro que se apaixonou na rota

É, não sou eu  
O meu quarto que ficou apaixonado  
Travesseiro dependente e viciado em você

Não sou eu  
Meu lençol te quer agora e não depois  
Minha cama tem a medida certa pra nós dois

É que meu pente perguntou do seu cabelo  
Ouvi reclamações do meu espelho  
Querendo saber de você  
Que dia ele vai te ver (...)

(Trecho da música de <https://www.letras.mus.br/jorge-mateus/medida-certa/>)

4- Qual alternativa mostra uma passagem (ou mais) do texto em que um objeto assume uma atitude humana:

- a) Querendo saber de você. / Que ele vai te ver (...)
- b) Minha cama tem a medida certa para nós dois.
- c) É que meu pente perguntou do seu cabelo.
- d) Todas as anteriores são alternativas corretas.

5- Analise a palavra “**pra**” no trecho: “Oi, tô te ligando pra você passar aqui em casa”. Considere o tipo de linguagem e também a que classe de palavras ela pertence.

- a) Ela está na linguagem informal e é uma interjeição.
- b) Ela está na linguagem formal e é uma preposição.
- c) Ela está na forma coloquial e é uma preposição.
- d) Ela está na forma não coloquial e é uma contração.

6- Observe a oração e responda: Ela **foi sequestrada** por um casal mercenário vindo do Sul da França.

- a) A locução verbal está na voz passiva
- b) A locução verbal está na voz ativa.
- c) A locução verbal está na voz passiva reflexiva.
- d) A parte em destaque não se trata de locução verbal

7- Assinale a alternativa em que a regência verbal não está de acordo com a norma culta.

- a) Assista a uma TV de LED pelo preço de uma antiga de LCD! (O verbo "assistir", com o sentido de ver - exige preposição).
- b) O esportista foi para o exterior visando títulos e salários vultosos. (O verbo "visar", com sentido de "objetivo", não exige preposição).

c) O banco informou aos clientes os prazos não prorrogáveis. (O verbo "informar" exige um complemento sem e outro com preposição: informar algo a alguém).

d) As crianças, obviamente, preferem os doces aos salgados. (O verbo "preferir" deve sempre ser seguido da preposição "a").

8-A seguir as frases estão nomeadas com V (VERDADEIRO) ou F (FALSO) fazendo referência às relações entre convenções ortográficas e pronúncia de palavras empregadas no texto.

I. (V) A regra de acentuação gráfica válida para a palavra "inócuo" pode ser incluída na mesma que rege o emprego de acento gráfico em "régua" e "história".

II. (V) O som representado pela letra /s/ na palavra "consequência" é representado por duas outras letras na palavra "exposição".

III. (F) Em palavras como ál-co-ol e al-co-ó-la-tra ocorre mudança na posição do acento gráfico porque somente a primeira é proparoxítona.

IV. (V) A palavra "significado", ao ser pronunciada, corresponde a "siguinificado", fato que leva muitas pessoas a escrevê-la de forma incorreta, ao considerarem que a pronúncia é o parâmetro para a escrita, o que nem sempre é adequado.

A sequência CORRETA de preenchimento dos parênteses, de cima para baixo, é

a) I (V) / II (V) / III (F) / IV (V)

b) I (F) / II (V) / III (V) / IV (V)

c) I (V) / II (V) / III (F) / IV (F)

d) I (V) / II (F) / III (V) / IV (V)

Leia: "Free Willy"

Jessé é um menino que perdeu os pais muito cedo. Ele costumava saltar de orfanato em orfanato, até que passou a viver nas ruas. Numa noite, ele e seu amigo Perry são flagrados pelo policial Dwight, pichando um parque local. Apesar da situação, o agente de polícia simpatiza com Jesse e o apresenta a Glen e Annie Greenwood, que vão adotar o garoto. Parte da punição por sua pequena infração envolve limpar a sujeira que ele fez no parque e é lá que Jesse conhece Willy, uma orca que está sendo treinada para ser a atração especial do local. No entanto, Willy não responde bem ao adestramento. Ela foi roubada de sua família por um pescador mercenário e ainda está traumatizada.

[...]

Disponível em: <<https://www.adorocinema.com/filmes/filme-9188/>>. (Com corte e adaptação).

9-A locução verbal, presente no segmento "[...] Glen e Annie Greenwood, que vão adotar o garoto.", refere-se:

a) À 1ª pessoa do plural.

b) À 2ª pessoa do plural.

c) À 3ª pessoa do plural.

d) À 1ª e pessoa singular e 3ª pessoa do plural, respectivamente.

10-Assinale o pretérito mais que perfeito do verbo traumatizar, na primeira pessoa do singular:

a) Eu traumatizava

- b) Eu traumatizei
- c) Eu traumatizara
- d) Eu traumatizaria

## Conhecimentos Gerais

11-Complete:

O TikTok não é uma rede social. É uma rede de entretenimento – o que distingue uma coisa da outra é a natureza do algoritmo. O aplicativo (app) \_\_\_\_\_ aprende que tipo de vídeo gostamos e sai mostrando outros conforme aquele padrão. A diferença está no fato de que ignora as contas que seguimos. Sua preocupação não é reforçar os elos entre seguidores. É mostrar o que entretém.

- a) Chinês
- b) Americano
- c) Brasileiro
- d) Frances

12-O governo Luiz Inácio Lula da Silva pretende manter o diálogo com a ditadura de Nicolás Maduro, na Venezuela, apesar da cassação dos direitos políticos da opositora de Maduro. A ex-deputada era favorita para representar a oposição na disputa presidencial de 2024, segundo as pesquisas mais recentes. O texto refere-se a deputada:

- a) María Corina Machado.
- b) Clara Solon
- c) Iris Varela
- d) Rosana Valle

13-Dia 28 de junho de 2022 o Instituto Brasileiro de Geografia e Estatística (IBGE) baseado na coleta do Censo de 2022, divulgou que a região brasileira menos populosa do Brasil é:

- a) Região Norte.
- b) Região Nordeste.
- c) Região Centro-Oeste.
- d) Região Sudeste.

14-Sobre a Proposta de Emenda à Constituição 45/19

- a) Define a Reforma Tributária, simplifica impostos sobre o consumo, prevê a criação de fundos para o desenvolvimento regional e para bancar créditos do ICMS até 2032, e unifica a legislação dos novos tributos.
- b) Estabelece normas relativas à transparência de redes sociais e de serviços de mensagens privadas, sobretudo no tocante à responsabilidade dos provedores pelo combate à desinformação e pelo aumento da transparência na internet, à transparência em relação a conteúdos patrocinados e à atuação do poder público, bem como estabelece sanções para o descumprimento da lei.
- c) Altera dispositivos sobre servidores e empregados públicos e modifica a organização da administração pública direta e indireta de qualquer dos Poderes da União, dos estados, do Distrito Federal e dos municípios.
- d) Estabelece que poder de investigação criminal seja exclusivo da polícia.

15-Cassado sob acusação de 'fraudar a lei' da Ficha Limpa, ex-deputado federal foi às redes sociais para relatar o que chamou de 'presente de Deus' o recebimento de uma série de transferências bancárias após o Superior Tribunal de Justiça restabelecer a sentença que impôs ao ex-chefe da Lava Jato a devolução de R\$ 2,8 milhões gastos com diárias e passagens na Operação.

- a) Rodrigo Janot
- b) João Vicente Beraldo Romão
- c) Daniel Silveira
- d) Deltan Dallagnol

16-Sobre o Word pode-se afirmar que:

- a) A atribuição de estilos a títulos de seções do documento em edição no MS Word permite a geração automática e padronizada de numeração e formatação.
- b) Em um documento no Word 2013, para inserção de uma tabela, é suficiente clicar com o botão direito do mouse sobre a área na qual a tabela será inserida; clicar então em "Inserir" e em seguida "Tabela".
- c) No Word, para que as orientações das páginas do documento se alternem entre retrato e paisagem não é necessário haver quebras de seções entre cada mudança de orientação.
- d) O recurso "Localizar e substituir" no Microsoft Word não permite substituir um termo por outro que esteja no formato negrito, itálico ou sublinhado, por exemplo.

17-Sobre a história de Cunha:

De antigos povoadamentos dispersos, o extenso espaço passou a ter a sua fundação oficial como Povoação do Facão em 1724, transformando-se, logo mais entre 1748 – 1749, em:

- a) Vila de Santo Agostinho de Paraty.
- b) Vila de Santo Amaro do Guaratinguetá.
- c) Freguesia de Nossa Senhora da Conceição do Facão.
- d) Freguesia de Nossa Senhora da Aparecida do Paraty.

18-Sobre o piso nacional da enfermagem:

I-A ministra da Saúde, Nísia Trindade, garantiu que o Governo Federal vai pagar o piso nacional da enfermagem com valores retroativos ao mês de maio.

II-O anúncio vem na sequência de decisão do Supremo Tribunal Federal (STF), que reconheceu que o setor público deve cumprir o que prevê a legislação sobre o tema.

III-A Confederação Nacional de Saúde, Hospitais, Estabelecimentos e Serviços (CN Saúde), que representam empresários do segmento não demonstraram resistência à criação do piso desde quando o Congresso começou a debater o assunto, em 2020.

São corretas:

- a) Apenas I
- b) Apenas II
- c) I e II
- d) I, II e III

19-Sobre o projeto de lei do marco temporal na demarcação de terras indígenas: (PL 490/07).

I- Restringe a demarcação de terras indígenas àquelas já tradicionalmente ocupadas por esses povos em 5 de outubro de 1988, data da promulgação da nova Constituição federal.

II- Deverá ser comprovado objetivamente que elas, na data de promulgação da Constituição, eram, ao mesmo tempo, habitadas em caráter permanente, usadas para atividades produtivas e necessárias à preservação dos recursos ambientais e à reprodução física e cultural.

III- A proposta vai diminuir os conflitos no campo. “É um projeto audacioso que acabaria com a guerra entre os indígenas e os produtores, e faz justiça àqueles que produzem e levam sustento” afirmam os defensores do Projeto.

IV- A oposição ao Projeto considera que a votação do marco temporal é um retrocesso, invade tema já em discussão pelo Supremo Tribunal Federal (STF) e viola direitos dos povos originários.

V- O deputado Arthur Oliveira Maia também defendeu a proposta. “É um dos mais importantes temas para o Brasil, para o Parlamento, para a paz no campo”, afirmou. Segundo ele, o cenário atual traz insegurança jurídica e permite que povos lancem mão de “autodeclarações” para criação de reservas indígenas.

Estão corretas:

- a) I, II, III e IV
- b) I, IV e V
- c) II e IV
- d) I, II, III, IV e V

20- Complete a lacuna:

A Organização Mundial da saúde classificou o adoçante \_\_\_\_\_ como um "provável" causador de câncer, mas afirmou que o consumo da substância é seguro desde que respeitado um limite diário, é um dos adoçantes mais usados na indústria de bebidas e alimentos, sobretudo naqueles declarados de baixa caloria, foi alvo de análise de dois grupos dentro da OMS.

- a) Xilitol
- b) Aspartame
- c) Eritritol
- d) Neotame

## **Conhecimentos Específicos**

21- Considerando que o Modelo de referência ISO/OSI é um padrão para os protocolos de rede e que é composto por 7 camadas, podemos afirmar que as duas últimas camadas são respectivamente de:

- a) Sessão e Apresentação
- b) Apresentação e Sessão
- c) Aplicação e Apresentação
- d) Apresentação e Aplicação

22-O modelo de arquitetura TCP/IP assim como a ISO/OSI, possui suas funções divididas em camadas, mas com a diferença na quantidade. O Modelo ISO/OSI possui 7 camadas já o Modelo TCP/IP possui apenas 4 camadas. Comparando as nomenclaturas desses modelos há somente uma camada no modelo TCP/IP que não está presente no ISO/OSI, sendo a:

- a) Camada de Rede
- b) Camada de Internet
- c) Camada de Transporte
- d) Camada de Aplicação

23-Nos sistemas operacionais Windows e Linux o comando usado para exibir uma lista dos arquivos e subpastas contidos em uma pasta/diretório, são respectivamente:

- a) dir e ls
- b) cmd e cd
- c) cd e cmd
- d) ls e dir

24-É fundamental fazer a escolha correta dos cabos de rede utilizados de acordo com a estrutura e necessidade da rede em funcionamento. No mercado atual existem vários tipos de cabos de rede que estão separados em categorias. Assinale a alternativa que possui um modelo de cabo de rede que **NÃO** existe no mercado atualmente.

- a) cat 5
- b) cat 5e
- c) cat 6
- d) cat 6e

25-Em uma rede de computadores onde usamos um switch para concentrar a ligação de todos os computadores em um único ponto, onde todas as informações enviadas passam pelo switch antes de chegar ao computador destino é uma topologia de rede do tipo:

- a) anel
- b) árvore
- c) estrela
- d) malha

26-Compartilhar arquivos entre usuários de diferentes dispositivos é simples e essencial para a eficiência do trabalho. Uma forma efetiva de compartilhar arquivos é utilizar o compartilhamento de arquivos na nuvem, atualmente existem diversos sites/software que oferecem os serviços de armazenamento de arquivos na nuvem. Assinale a alternativa que contém um site/software que **NÃO** oferece serviços de armazenamento de arquivos na nuvem.

- a) Dropbox
- b) iCloud
- c) DriveSed
- d) OneDrive



27-Em sites que utilizam recursos como acesso do usuário através de Login, recebem pagamentos ou trabalham com informações sigilosas, o protocolo \_\_\_\_\_ é uma camada extra de segurança, há um pequeno cadeado fazendo referência ao protocolo que informa se há uma troca de informações segura entre o dispositivo do usuário e o servidor do site. O protocolo que completa corretamente a lacuna é:

- a) HTTPS
- b) HTTP
- c) FTP
- d) SFTP

28-Considerando o Libre Office Impress, ao criar uma apresentação de slides são itens possíveis de configuração da transição de slides, EXCETO:

- a) Efeito
- b) Variante
- c) Velocidade
- d) Forma

29-Considerando o Libre Office Calc, analise a função SE( ):

1	7	9	Resultado
5	8	10	=SE(E5<D5;"Menor";"Maior")

O resultado da célula onde está digitada a fórmula será:

- a) 5
- b) Maior
- c) Menor
- d) 8

30-São tipos de gráficos presentes no Libre Office Calc, EXCETO:

- a) XY
- b) Rede
- c) Barramento
- d) Cotações