



Prefeitura Municipal
de Silveiras

Nome do Candidato _____

Inscrição _____

Caderno de Prova



Data 20/11/2022



2h00 de duração






30 questões



Cargo: Analista de Suporte

INSTRUÇÕES

- Só abra este caderno quando o fiscal autorizar.
- Verifique se este caderno contém 30 questões, numeradas de 1 a 30. Caso contrário, solicite ao fiscal da sala um outro caderno.
- Para cada questão existe apenas UMA resposta certa.
- Transcreva, preferencialmente **com caneta de tinta preta**, as alternativas escolhidas para o GABARITO OFICIAL, sem cometer rasuras. Não deixe nenhuma em branco.
- Não será possível a substituição do Gabarito Oficial.
- Não será permitida qualquer espécie de consulta.
- Não haverá tempo adicional para transcrição de respostas ao gabarito oficial.
- Terminada a prova entregue o gabarito oficial e o caderno de questões ao fiscal.
- Poderá ser levado **somente** o gabarito provisório de respostas.
- Ao entregar a prova o candidato deverá deixar o prédio e não poderá utilizar os sanitários.

  
Certo Errado Errado

Gabarito Provisório

1)	6)	11)	16)	21)	26)
2)	7)	12)	17)	22)	27)
3)	8)	13)	18)	23)	28)
4)	9)	14)	19)	24)	29)
5)	10)	15)	20)	25)	30)



AGIRH – Assessoria e Gestão Integrada
em Recursos Humanos S/C Ltda
Email: contato@agirh.org
<http://www.agirh.org>

PREFEITURA MUNICIPAL DE SILVEIRAS
Concurso Público 01/2022

Cargo: Analista de Suporte

PORTUGUÊS

Leia o poema "Motivo" da autora Cecília Meireles e responda as questões 1 e 2

Motivo

Eu canto porque o instante existe
e a minha vida está completa.
Não sou alegre nem sou triste:
sou poeta.

Irmão das coisas fugidias,
não sinto gozo nem tormento.
Atravesso noites e dias
no vento.

Se desmorono ou se edifico,
se permaneço ou me desfaço,
— não sei, não sei. Não sei se fico
ou passo.

Sei que canto. E a canção é tudo.
Tem sangue eterno a asa ritmada.
E um dia sei que estarei mudo:
— mais nada.

1-Julgue as seguintes afirmativas:

- I. O recurso da antítese traz a ideia de existencialismo no poema.
- II. O uso de rimas misturadas não acrescenta musicalidade ao poema.
- III. O uso constante do tempo presente do indicativo no poema pretende evocar o aqui e o agora.
- IV. O poema "Motivo" não é um exemplo de metalinguagem.

São verdadeiras as afirmativas:

- a) II e IV.
- b) I, III e IV.
- c) I, II e III.
- d) I e III.

2-Sobre o poema:

- I. Para o eu lírico escrever e viver eram verbos que se misturavam: viver era ser poeta e ser poeta era viver
- II. Para a autora ser poeta era parte de sua identidade e era uma condição essencial para a sua vida , é o que se constata especialmente no verso: "Não sou alegre nem sou triste: sou poeta".

III. O poema é existencialista e trata da brevidade da vida, muitas vezes com certo grau de tristeza, apesar da extrema delicadeza.

IV. Os versos são construídos a partir de antíteses, ideias opostas (alegre e triste; noites e dias; desmorono e edifício; permaneço e desfaço; fico e passo).

São corretas as afirmativas:

- a) I e II.
- b) I, II e III.
- c) II, III e IV.
- d) todas as afirmativas estão corretas.

3-Em qual alternativa ocorre o uso indevido da crase de acordo com a norma padrão?

- a) A missa começa às 19h.
- b) Nossa família foi à Bahia muitas vezes.
- c) Ela está trabalhando sem parar desde às 7h.
- d) A máquina de lavar quebrou, por isso estou lavando roupa à mão.

4-Sobre o uso do “porquê”, assinale a afirmativa INCORRETA:

- a) Qual o por que da sua revolta?
- b) Por que não veio?
- c) Ela não foi à escola porque estava chovendo.
- d) Ela não veio por quê?

5-“Este é bônus para _____ receber sozinho, sem que se repartam as comissões entre _____” Complete corretamente as lacunas:

- a) mim, eu e tu.
- b) eu, mim e ti.
- c) mim, mim e ti.
- d) eu, eu e ti.

6-Em qual afirmativa a palavra em destaque está empregada incorretamente?

- a) Durma cedo, senão acordará cansado amanhã.
- b) Estava mau humorado, por isso chorou.
- c) Disse que há cinco anos, ganhou no bingo.
- d) De hoje a três meses, pedirei um novo empréstimo.

7-O adjetivo – que acompanha o substantivo, indicando qualidade – pode desempenhar várias funções nas sentenças. Assinale a afirmativa INCORRETA:

- a) Na sentença: “A conferência internacional reuniu representantes de países pobres e de países ricos.”, “pobres” e “ricos” são adjetivos que indicam característica ou qualidade.
- b) Na sentença: “Robin Hood roubava o dinheiro dos ricos e entregava aos pobres.”, “ricos” e “pobres” funcionam como substantivos.
- c) Na sentença: “João era um garoto tímido e falava baixo.”, “tímido” indica característica, mas “baixo” torna-se um advérbio ligado à ação de falar.
- d) Na sentença: “João era um garoto tímido e baixo.”, tímido e baixo funcionam como substantivos.

8-São Paulo gigante, torrão adorado
Estou abraçado com meu violão
Feito de pinheiro da mata selvagem
Que enfeita a paisagem lá do meu sertão

Tonico e Tinoco, São Paulo Gigante

Julgue as seguintes afirmativas:

I. Para se contrapor às características da metrópole caracterizada pelo “concreto”, o autor utiliza a palavra “sertão” como uma metáfora para identificar o interior do Brasil.

II. Ao mencionar o material de que é feito o violão, o poeta se remete à simplicidade do povo do interior que usa os recursos de que dispõe para desenvolver uma cultura popular representativa do meio a que pertence.

III. O poeta usa o termo “sertão” para descrever a paisagem e a vegetação típicas do Nordeste brasileiro, identificando o pinheiro como vegetação típica do sertão.

São corretas as afirmativas:

- a) I e II.
- b) I e III.
- c) II e III.
- d) todas afirmativas estão corretas.

9-Assinale a afirmativa na qual a partícula “que” está sendo usada como preposição:

- a) Apressava o passo, que ora desacelerava.
- b) Que esperto!
- c) Ele teve que fugir.
- d) Quê! Sua esposa fugiu?

10-Na sentença: “Compôs-se um novo poema parnasiano.” A palavra “se” desempenha qual função?

- a) pronome reflexivo.
- b) construção de voz passiva.
- c) construção de sujeito indeterminado.
- d) conjunção subordinativa condicional.

CONHECIMENTOS GERAIS

11-De acordo com o IBGE, qual o bioma de Silveiras?

- a) Mata Atlântica.
- b) Sistema Costeiro- Marinho.
- c) Mata Campeira.
- d) Mata Amazônica.

12-Dentre as atrações turísticas de Silveiras, encontram-se as praças:

- a) do Tropeiro, da Bocaina, da Madre Santa.
- b) do Chafariz, da Cascata, das Sapucaieiras.
- c) do Paraitinga, do Largo, do Cedro.
- d) do Ronco D’água, Guajupιά, Santa.

13-São festividades ocorridas em Silveiras:

- a) semana da arte, rodeio e torneio leiteiro, festa nacional do tropeiro, festival da içá.
- b) folia de reis, congada, círio de nazaré, festa do peão.
- c) cavalhadas, lavagem do Bonfim, fogaréu, festival gastronômico de Silveiras.
- d) romaria de finados, natal luz, festival de comidas de boteco, festival de música erudita.

14-Assinale, abaixo, alternativa que indica um dos símbolos do Município de Silveiras, conforme a Lei Orgânica do Município.

- a) Hino
- b) O dia 28 de fevereiro.
- c) Sinete.
- d) Praça Padre Antônio Pereira de Azevedo

15-De acordo com a Lei Orgânica do Município, em regra, a alienação de bens imóveis municipais dependerá de

- I. Prévia avaliação.
 - II. Autorização legislativa.
 - III. Despacho do Prefeito
 - IV. Licitação.
- a) Apenas I, II e III.
 - b) Apenas II, III e IV.
 - c) Apenas II e III.
 - d) Apenas I, II e IV.

16-O aumento _____ levou a inflação britânica a uma máxima de 41 anos, de acordo com dados publicados um dia antes de o ministro das Finanças, Jeremy Hunt, anunciar altas de impostos e cortes de gastos para controlar os preços. Os preços ao consumidor subiram 11,1% nos 12 meses até outubro, o maior aumento desde outubro de 1981 e um grande salto ante a taxa de 10,1% em setembro, disse o Escritório de Estatísticas Nacionais dia 16/11/2022. Complete corretamente a lacuna:

- a) do valor do petróleo e do gás natural.
- b) das contas de energia e dos preços dos alimentos.
- c) do valor do dólar e dos produtos importados.
- d) das contas de saúde e educação.

17-São atrações turísticas de Silveiras, EXCETO:

- a) portal do tropeiro, rancho do tropeiro, cadeia pública.
- b) memorial dos tropeiros, espaço cultural Nene Emboava, praça matriz.
- c) igreja de Nossa Senhora da Conceição, parque da cascata, capela de São Benedito.
- d) cachoeira Alto da Nascente, pedra do Baú, cemitério das areias.

Responda as próximas 02 questões sobre segurança da internet

18-Um usuário de computador recebeu um Email de uma empresa solicitando a confirmação de seus dados pessoais, ao acessar o site o usuário verificou que o mesmo possuía o mesmo layout do site original, porém se tratava de

imitação da página real da empresa. Esse usuário foi vítima de uma tentativa conhecida como:

- a) trojan.
- b) ransomware
- c) phishing
- d) spam

19-_____ são aplicativos que ficam em execução em um determinado computador para monitorar todas as entradas do teclado. Foram criados para ações legais, entretanto hackers passaram a usá-los com fins ilícitos, se utilizando do programa que fica em execução na máquina em segundo plano sem ser percebido, gravando tudo que for digitado inclusive senhas e dados bancários. Esses aplicativos são conhecidos como:

- a) keylogger
- b) worm
- c) adware
- d) rootkit

20-O Microsoft Word possui a função de “quebras de seção” muito utilizada em determinadas formatações de documentos. São tipos disponíveis de “quebras de seção” do Microsoft Word, **EXCETO**:

- a) Próxima página
- b) Contínuo
- c) Página par
- d) Interrupta

CONHECIMENTOS ESPECÍFICOS:

21-Considerando o ambiente Linux são comandos de transferência de arquivos, EXCETO:

- a) ftp
- b) scp
- c) rsync
- d) env

22-Um sistema que é uma tecnologia de segurança de rede e prevenção de ameaças, fazendo a manutenção da segurança dos ambientes de redes, impedindo invasões e bloqueando determinados eventos é conhecido como:

- a) IPS
- b) IDS
- c) ICS
- d) IKS

23-O Grupo de Processos de Gerenciamento de Projetos do Guia PMBOK que é responsável pela avaliação de todas as variáveis que irão compor o projeto e suas tratativas até o seu encerramento é o:

- a) Grupo de processos de planejamento.
- b) Grupos de processos de execução.
- c) Grupo de processos de encerramento.
- d) Grupos de processos de iniciação.

24-O Protocolo que permite atribuir um IP e outras configurações a computadores em uma rede, permitindo que o endereço IP dos dispositivos ligados à rede sejam definidos de forma automática no momento em que os mesmos forem conectados à rede é o:

- a) FTP
- b) STMP
- c) DNS
- d) DHCP

25-O espaço do endereço IP originalmente foi dividido em estruturas de tamanho fixo chamados de "classes de endereço". É possível determinar a qual a classe e a estrutura da mesma examinando os primeiros bits de um endereço. O espaço do endereço IP foi dividido em quantas classes?

- a) 3 classes
- b) 4 classes
- c) 5 classes
- d) 6 classes

26-Com relação a topologias de rede, podemos afirmar que a topologia considera a mais simples é a:

- a) barramento
- b) anel
- c) estrela
- d) ponto a ponto



27-A camada de _____ é responsável por usar os dados enviados pela camada de _____ e dividi-los em pacotes que serão transmitidos para a Camada de _____. Complete corretamente as lacunas considerando o modelo ISO/OSI:

- a) transporte – sessão – rede.
- b) rede – transporte - sessão
- c) sessão – Transporte - rede
- d) transporte – rede – sessão.

28-A superfície dos discos rígidos são divididas em _____ e _____ de forma a organizar o processo de gravação e leitura. A alternativa que completa corretamente as lacunas é:

- a) trilhas e setores
- b) setores e pilhas
- c) trilhas e trechos
- d) trilhas e pilhas

29-Analise os símbolos abaixo utilizados em fluxograma:



Os símbolos representam respectivamente:

- a) junção - armazenamento
- b) agrupar -memória principal
- c) sub-rotina - demora ou espera
- d) classificar – operação manual

30-Considerando o modelo Pilha de Protocolos TCP/IP a camada que não faz parte de sua estrutura é:

- a) aplicação
- b) transporte
- c) internet
- d) sessão